

平成24年度
「大和郡山・金魚検定」問題

< 金魚 >

< 初級 >



大和郡山・金魚検定認定委員会

問題1 ヒブナから生じ、金魚の原型となった品種はどれか。次の①～④のうちから正しいものを一つ選べ。

- ① ワキン (和金)
- ② リュウキン (琉金)
- ③ テツギョ (鉄魚)
- ④ テツオナガ (鉄尾長)

問題2 金魚の品種はその体形からワキン型、リュウキン型、オランダシシガシラ型、ランチュウ型にわけることができる。リュウキン型に入る金魚はどれか。次の①～④のうちから正しいものを一つ選べ。

- ① コメット・ショウナイキングョ (庄内金魚)・テツギョ (鉄魚)
- ② タンチョウ (丹頂)・セイブングョ (青文魚)・チャキン (茶金)
- ③ トサキン (土佐錦魚)・アカデメキン (赤出目金)・チョウビ (蝶尾)
- ④ エドニシキ (江戸錦)・キョウニシキ (京錦)・ガトウコウ (鵞頭紅)

問題3 写真の金魚は日本において中国産の高頭パールせんぱつとう たを選抜淘汰して作られた品種である。この金魚の品種名はどれか。次の①～④のうちから正しいものを一つ選べ。

- ① アヤニシキ (彩錦)
- ② ハマニシキ (浜錦)
- ③ キンランシ (金爛子)
- ④ キョウニシキ (京錦)



問題4 写真はジャンボシシガシラししがしら (ジャンボ獅子頭) またはジャンボオランダとよばれる金魚である。この金魚は日本のどの地方で作られたものか。次の①～④のうちから正しいものを一つ選べ。

- ① 青森県弘前
- ② 愛知県弥富
- ③ 熊本県長洲
- ④ 奈良県大和郡山



問題5 タマサバ（玉サバ）をもとに選抜淘汰して作った2種の金魚はどれか。次の①～④のうちから正しいものを一つ選べ。

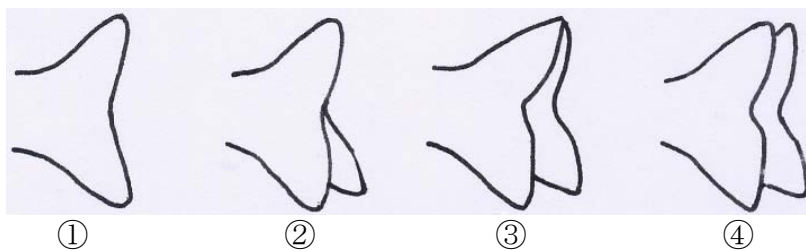
- ① タマニシキ（玉錦）・エドアカネ（江戸茜）
- ② フクダルマ（福だるま）・タマニシキ（玉錦）
- ③ フクダルマ（福だるま）・アイズニシキ（会津錦）
- ④ モミジリュウキン（もみじ琉金）・サクラリュウキン（桜琉金）

問題6 写真の金魚は近年中国からたびたび輸入されている。この金魚には日本の品種名がつけられているが、それはどれか。次の①～④のうちから正しいものを一つ選べ。



- ① ベールテールリュウキン
- ② スワローテールリュウキン
- ③ メイプルテールリュウキン
- ④ ブロードテールリュウキン

問題7 金魚の尾の形に「つまみ尾」とよばれるものがある。次の①～④の図のうち、「つまみ尾」はどれか。正しいものを一つ選べ。



問題8 ランチュウの頭は、肉瘤が頭部のどの部分に発達しているかによっていくつかのタイプに類別でき、それらは龍頭、兜金、鬚張、獅子頭などとよばれている。写真のランチュウの頭はどれに相当するか。次の①～④のうちから正しいものを一つ選べ。



- ① 龍頭
- ② 兜金
- ③ 鬚張
- ④ 獅子頭

問題9 スイハウガン（水泡眼）の眼は、写真のように眼の下部が水泡状に膨らんでいる。この水泡の内部を満たしているものは何か。次の①～④のうちから正しいものを一つ選べ。



- ① 水
- ② 血液
- ③ 脂肪
- ④ 組織液

問題10 金魚は飼育水温を調整することによって産卵期でなくても成熟個体を得ることができる。金魚の雄を年中成熟した状態に保つには、雄を何度の水温（℃）で飼育しつづけるとよいか。次の①～④のうちから正しいものを一つ選べ。

- ① 5～6
- ② 8～9
- ③ 13～14
- ④ 17～18

問題11 金魚を購入するとき、体形や体色のよいものを選ぶことはいうまでもないが、金魚の動きについても注意する必要がある。次の①～④のうち、健康な金魚がとる行動はどれか。正しいものを一つ選べ。

- ① 仲間と一緒に泳ぐ（仲間外れになるのはイヤ？）
- ② 水槽の底でじっとしている（遊び疲れて一眠り？）
- ③ 片方の胸鰭をたたんで泳ぐ（片肺飛行のまねかな？）
- ④ 水槽のガラスに体当たりする（エネルギーをもてあまし気味？）

問題12 買ってきた金魚の取り扱いについて書かれた文章のうちで、記述内容の正しいものはどれか。次の①～④のうちから一つ選べ。


- ① すぐに餌を与え餌止めの空腹を満たす。
- ② 魚体を洗い清潔にしてから水槽にうつす。
- ③ 金魚の入ったビニール袋は30分ほど水槽に浮かべる。
- ④ 金魚をできるだけ早くビニール袋から出して、水槽へうつす。

問題13 リュウキン（琉金）の親魚候補を選ぶとき、不適とする体形や体色はどれか。次の①～④のうちから正しいものを一つ選べ。

- ① 尾鰭は先まで赤い。
- ② 体形は丸く、体高が高い。
- ③ 尾鰭は三つ尾か四つ尾である。
- ④ 体色は白の多い更紗さらさ模様である。

問題14 写真は、金魚の養殖場で使われる道具である。貝殻に柄を付けたものと小さな網に柄を付けたものがみられるが、これらはどのような作業に用いられるか。次の①～④のうちから正しいものを一つ選べ。

- ① 魚巢からの死卵とゴミの除去
- ② イトミミズの採集
- ③ 仔魚への給餌
- ④ 稚魚の選別



問題15 金魚の仔稚魚には、その体形や体色の特徴に基づいて付けられたいくつかの呼名がある。成長に伴ってそれらの呼名はどのように変わっていくか。次の①～④のうちから正しいものを一つ選べ。

- ① 毛仔 → 青仔 → 黒仔 → 虎はげ
- ② 毛仔 → 黒仔 → 青仔 → 虎はげ
- ③ 毛仔 → 虎はげ → 青仔 → 黒仔
- ④ 虎はげ → 毛仔 → 黒仔 → 青仔

問題 16 写真は金魚池における竹簀を使った作業風景を撮ったものである。養殖業者は池中でどのような作業を行っているか。次の①～④のうちから正しいものを一つ選べ。



- ① 池の環境を改善するために、簀で池底の泥をかき起こしている。
- ② サイズの異なる金魚をよりわけするために、簀で子魚を濾している。
- ③ 金魚を取り上げるために、簀を押して金魚を池の片隅に寄せている。
- ④ 一つの池で種類の違う金魚を飼うために、簀で池を区分けしている。

問題 17 大和郡山市で最も多く販売されている金魚の品種はワキン（和金）であるが、その次に販売量の多い品種はどれか。また、金魚全体に占めるこの品種の最近の年間販売量はおよそ何%か。次の①～④のうちから正しいものを一つ選べ。

	品 種	販売量 (%)
①	デメキン（出目金）	8～ 9
②	デメキン（出目金）	45～60
③	リュウキン（琉金）	8～ 9
④	リュウキン（琉金）	45～60

問題18 金魚の養殖業者のなかには、ある生物の乾燥卵から生じた幼生を仔魚の餌ようせい しぎよにしている者がいる。長期間保存でき、適期に適量の幼生を培養できるこの乾燥卵は、どの生物が産するものか。次の①～④のうちから正しいものを一つ選べ。

- ① ウニ
- ② ブラインシュリンプ
- ③ オキアミ
- ④ タニシ

問題19 金魚の立鱗病りつりんびょうは、その症状から別名で何と呼ばれているか。またその病原菌は何か。次の①～④のうちから正しいものを一つ選べ。

	病名	病原菌
①	松かさ病	エロモナス
②	舞茸病 <small>まいたけ</small>	エロモナス
③	舞茸病 <small>まいたけ</small>	ビブリオ
④	松かさ病	ビブリオ


問題20 金魚をたこ凧に仕立てて大空を泳がせてみたい。そのような思いから、いくつかの国でユニークな金魚凧が作られてきた。写真は組み立て式の全長2mを超える大凧である。これはどこの国の凧か。次の①～④のうちから正しいものを一つ選べ。

- ① 韓国
- ② 中国
- ③ アメリカ
- ④ フランス



問題2 1 ポケットモンスターには多くのキャラクターが存在し、図の金魚のポケモンもその一員である。このポケモンの名前は何か。次の①～④のうちから正しいものを一つ選べ。

- ① トサトト
- ② トサキンタ
- ③ トサキント
- ④ トサギョギョ



「ポケモン ダイヤモンド・パール プラチナ ぜんこく全キャラ大図鑑」より引用

問題2 2 大和郡山市内にあるマンホールの蓋には、写真にみられるように「金魚が泳ぐ城下町」にふさわしいデザインが施されている。この図入りの蓋は平成何年から使われはじめたか。次の①～④のうちから正しいものを一つ選べ。

- ① 2
- ② 5
- ③ 10
- ④ 15



問題2 3 大和郡山お城まつり恒例のイベントとして、2012年で第92回となる金魚品評会が開催された。この品評会で農林水産大臣賞を受賞した金魚の品種はどれか。次の①～④のうちから正しいものを一つ選べ。

- ① ジキン (地金)
- ② リュウキン (琉金)
- ③ ワキン (和金)
- ④ タンチョウ (丹頂)

問題 2 4 全国金魚すくい選手権大会の屋外会場では小さな子どもでもできる金魚すくいイベントが催される。このイベントの名は何か。次の①～④のうちから正しいものを一つ選べ。

- ① ワクワク金魚すくいコーナー
- ② パクパク金魚すくいコーナー
- ③ ピチピチ金魚すくいコーナー
- ④ とれとれ金魚すくいコーナー

問題 2 5 金魚すくいには「尾びれ外し」とよばれる技がある。この技を使うとどのような利点があるか。次の①～④のうちから正しいものを一つ選べ。

- ① 金魚を傷めない。
- ② ポイの紙が破れにくい。
- ③ 周囲に水が飛び散らない。
- ④ 金魚をボウルに移しやすい。